




3 加法(一)

一 美麗的花燈

這裏有很多美麗的花燈啊！



店裏有：

25 個

80 個

36 個

30 個

13 個

1 和 共有：

$$25 + 13 = \square \text{ (個)}$$

被加數

加數

和

$$\begin{array}{r} \text{十個} \\ 25 \\ + 13 \\ \hline \square \end{array}$$

先加個位的數，
後加十位的數。

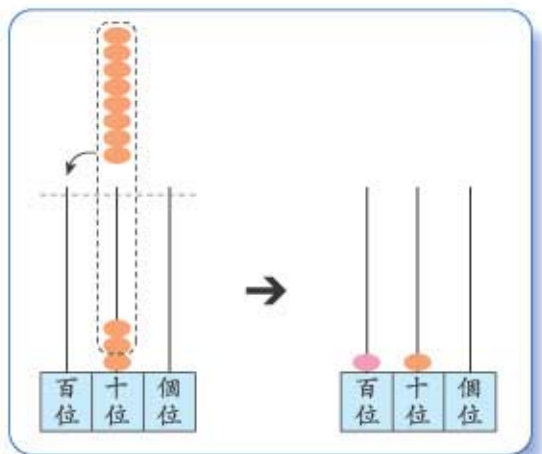


2 和 共有：

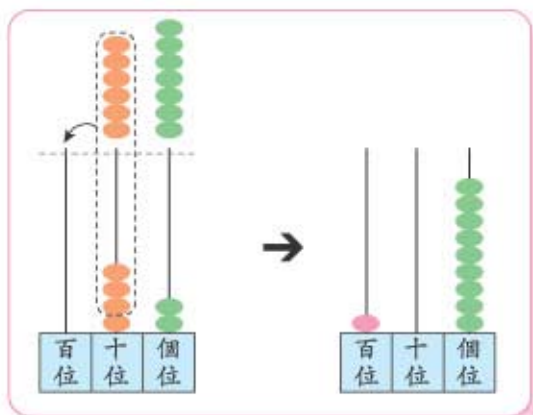
$$30 + 80 = 110 \text{ (個)}$$

$$\begin{array}{r} \text{百十個} \\ 30 \\ + 80 \\ \hline 110 \end{array}$$

滿
10
進
1



3 $42 + 67 = 109$



$$\begin{array}{r} \text{百 十 個} \\ 42 \\ + 67 \\ \hline 109 \end{array}$$

滿
10
進
1

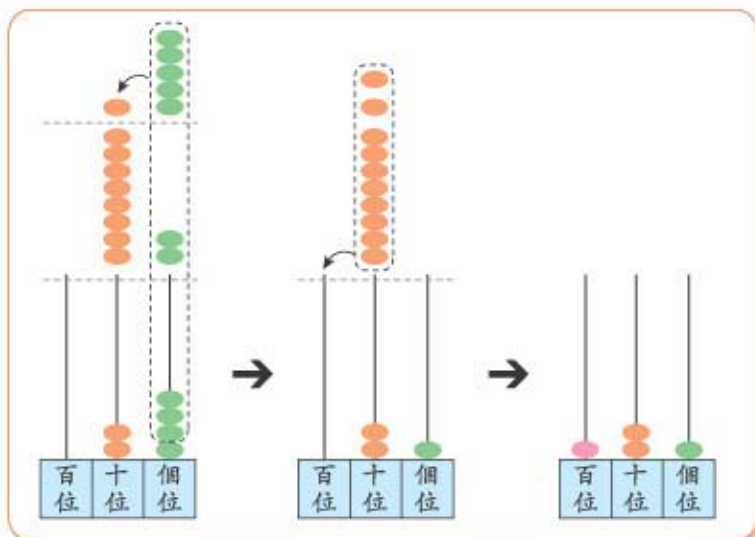
4 $14 + 36 + 31 = \square$

14 比 10 大，
36 比 30 大，
31 比 大，
 $10 + 30 + \square = \square$ ，
答案會大於 。

$$\begin{array}{r} \text{十 個} \\ 14 \\ 36 \\ + 31 \\ \hline \square \end{array}$$

滿
10
進
1

5 $24 + 82 + 15 = \square$



先估算，再計算！

$$\begin{array}{r} \text{百 十 個} \\ 24 \\ 82 \\ + 15 \\ \hline \square \end{array}$$

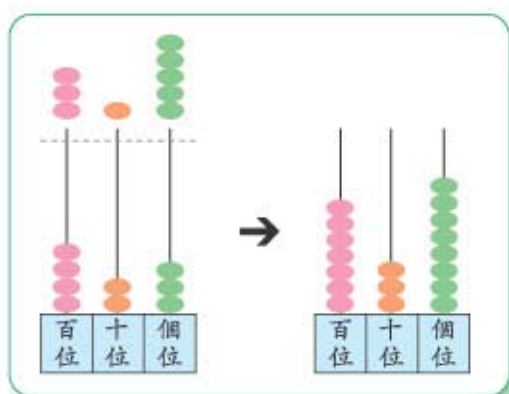
兩次進位

二 你懂得計算嗎？

1 $400 + 300 = 700$

$$\begin{array}{r} \text{百 十 個} \\ 400 \\ + 300 \\ \hline 700 \end{array}$$

2 $423 + 315 = \square$



423 比 400 大，
315 比 300 大，
 $400 + 300 = \square$ ，
答案會大於 _____。



$$\begin{array}{r} \text{百 十 個} \\ 423 \\ + 315 \\ \hline \square \end{array}$$

個位的數加個位的數，
十位的數加十位的數，
百位的數加百位的數。



3 $315 + 203 + 141 = \square$

$$\begin{array}{r} 315 \\ 203 \\ + 141 \\ \hline \square \end{array}$$

來算算

1 $\begin{array}{r} 200 \\ + 100 \\ \hline \square \end{array}$

2 $\begin{array}{r} 123 \\ + 52 \\ \hline \square \end{array}$

3 $\begin{array}{r} 262 \\ + 105 \\ \hline \square \end{array}$

4 $21 + 137 + 40 = \square$

5 $241 + 110 + 135 = \square$

三 應節水果



- 1 有蘋果 203 個，楊桃 325 個，共有蘋果和楊桃：

$$203 + 325 = \square \text{ (個)}$$

$$\begin{array}{r} 203 \\ + 325 \\ \hline \square \end{array}$$

203 比 _____ 大，325 比 _____ 大，

$$\square + \square = \square,$$

答案會大於 _____。



- 2 有柿子 122 個，楊桃 325 個，柚子 141 個，共有柿子、楊桃和柚子：

$$\square + \square + \square = \square \text{ (個)}$$

$$\begin{array}{r} \square \\ \square \\ + \square \\ \hline \square \end{array}$$

- 3 柿子原有 122 個，第一天店主買入 303 個，第二天他再買入 142 個，現有柿子：



考考你

- 1 兩個三位數相加，最小的和是多少？
- 2 三個兩位數連加，最大的和是多少？



練習三

算算看。

①
$$\begin{array}{r} 76 \\ + 35 \\ \hline \square \end{array}$$

②
$$\begin{array}{r} 378 \\ + 101 \\ \hline \square \end{array}$$

③
$$\begin{array}{r} 130 \\ 614 \\ + 21 \\ \hline \square \end{array}$$

④
$$\begin{array}{r} 251 \\ 316 \\ + 202 \\ \hline \square \end{array}$$

⑤ $237 + 61 = \square$

⑥ $186 + 212 = \square$

⑦ $23 + 142 + 103 = \square$

⑧ $465 + 110 = \square$

列式計算下列各題。

⑨ 花園內有  92 盆和  13 盆，共有  和  ：

$\square + \square = \square$ (盆)

$$\begin{array}{r} \square \\ + \square \\ \hline \square \end{array}$$

⑩ 花店內有  217 枝和  130 枝，共有  和  ：

$\square + \square = \square$ (枝)

$$\begin{array}{r} \square \\ + \square \\ \hline \square \end{array}$$


⑪ 鮮果店今天售出橙汁 353 杯、提子汁 122 杯和西瓜汁 104 杯，共售出果汁：





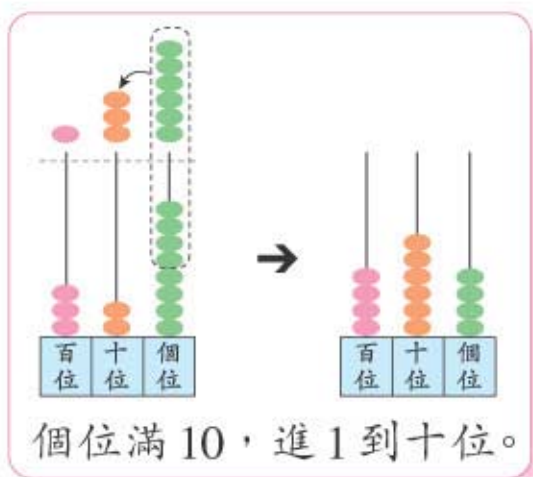
4 加法(二)

一 池塘裏



1 池塘裏有  328 隻和  136 隻，共有  和  。

$$328 + 136 = 464 \text{ (隻)}$$



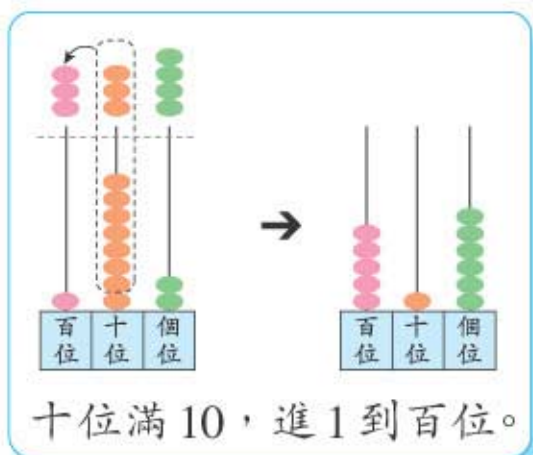
328 比 300 大，
136 比 100 大，
 $300 + 100 = 400$ ，
答案會大於 _____。

| | | | | | | |
|---|---|---|--|---|---|---|
| 百 | 十 | 個 | | 百 | 十 | 個 |
| 3 | 2 | 8 | | 1 | 3 | 6 |
| | | | | 4 | 6 | 4 |

個位滿 10 進 1



2 $182 + 334 = 516$



182 約是 200，
334 約是 300，
 $200 + 300 = \square$ ，
答案約是 _____。

| | | | | | | |
|---|---|---|--|---|---|---|
| 百 | 十 | 個 | | 百 | 十 | 個 |
| 1 | 8 | 2 | | 3 | 3 | 4 |
| | | | | 5 | 1 | 6 |

十位滿 10 進 1



3 $123 + 792 = \square$

$$\begin{array}{r} 123 \\ + 792 \\ \hline \square \end{array}$$

4 $251 + 217 + 308 = \square$

$$\begin{array}{r} 251 \\ 217 \\ + 308 \\ \hline 776 \end{array}$$

個位滿 10 進 1

5 $291 + 133 + 184 = \square$

$$\begin{array}{r} 291 \\ 133 \\ + 184 \\ \hline 608 \end{array}$$

十位滿 20 進 2

291 約是 300，

133 約是 100，

184 約是 _____，

$\square + \square + \square = \square$ ，

答案約是 _____。



來算算

1 $\begin{array}{r} 118 \\ + 78 \\ \hline \square \end{array}$

2 $\begin{array}{r} 273 \\ + 164 \\ \hline \square \end{array}$

3 $\begin{array}{r} 290 \\ + 194 \\ \hline \square \end{array}$

4 $151 + 19 + 223 = \square$

5 $381 + 192 + 254 = \square$

考考你

右面算式中漏去的是甚麼數字？
試在 \square 內填填看。

$$\begin{array}{r} \square 0 9 \\ + 3 \square 1 \\ \hline 4 3 \square \end{array} \quad \begin{array}{r} 3 \square 1 \\ + \square 8 2 \\ \hline 6 3 \square \end{array}$$

二 樹林裏

- 1 有  191 隻和  272 隻，

共有蜻蜓和蝴蝶：

$$191 + 272 = \square \text{ (隻)}$$

$$\begin{array}{r} 191 \\ + 272 \\ \hline \square \end{array}$$

191 約是 200，272 約是 _____，

$$200 + \square = \square，$$

答案約是 _____。



- 2 樹林裏有  173 隻， 215 隻
和  109 隻，共有小鳥：

$$173 + 215 + 109 = \square \text{ (隻)}$$

$$\begin{array}{r} 173 \\ 215 \\ + 109 \\ \hline \square \end{array}$$

- 3 草原上有  286 朵， 比  多 104 朵，
有  ：

$$\square + \square = \square \text{ (朵)}$$

$$\begin{array}{r} \square \\ + \square \\ \hline \square \end{array}$$

- 4 樹林裏有榕樹 358 棵，竹樹比榕樹多 161 棵，
樹林裏有竹樹：





練習四

算算看。

$$\begin{array}{r} \textcircled{1} \quad 84 \\ + 173 \\ \hline \square \end{array}$$

$$\begin{array}{r} \textcircled{2} \quad 346 \\ + 147 \\ \hline \square \end{array}$$

$$\begin{array}{r} \textcircled{3} \quad 218 \\ 129 \\ + 307 \\ \hline \square \end{array}$$

$$\textcircled{4} \quad 192 + 345 = \square$$

$$\textcircled{5} \quad 347 + 413 = \square$$

$$\textcircled{6} \quad 120 + 83 + 52 = \square$$

$$\textcircled{7} \quad 392 + 103 + 161 = \square$$

列式計算下列各題。

- ⑧ 上學期上課 125 天，下學期上課 115 天，
上下學期共上課：

$$\square + \square = \square \text{ (天)}$$

$$\begin{array}{r} \square \\ + \square \\ \hline \square \end{array}$$

- ⑨ 糖果店有  492 粒， 比  多
193 粒，有  ：

$$\square + \square = \square \text{ (粒)}$$

$$\begin{array}{r} \square \\ + \square \\ \hline \square \end{array}$$

- * ⑩ 盒裏有紅色手工紙 127 張，黃色手工紙比
紅色的多 81 張，綠色手工紙又比黃色的多
250 張，盒裏共有綠色手工紙：

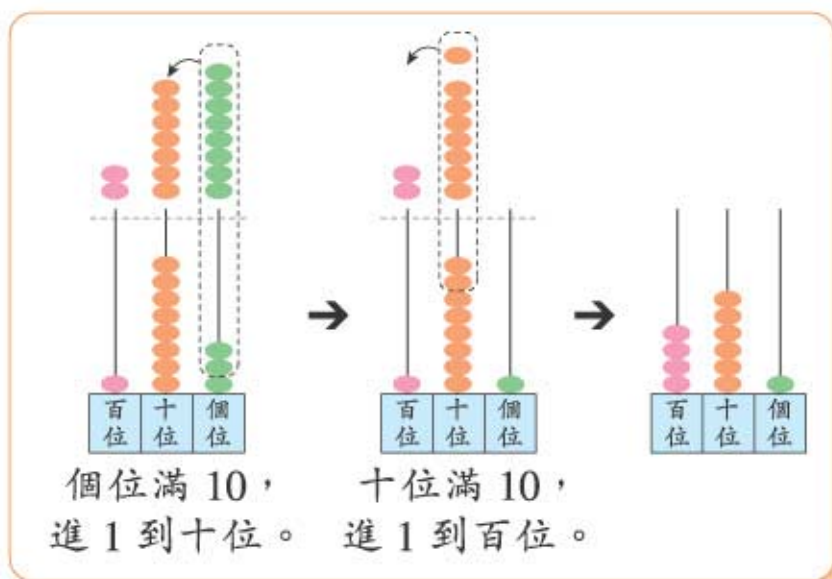


5 加法(三)

一 齊來計算

- 1 子偉有  貼紙 183 個和  貼紙 278 個，共有貼紙：

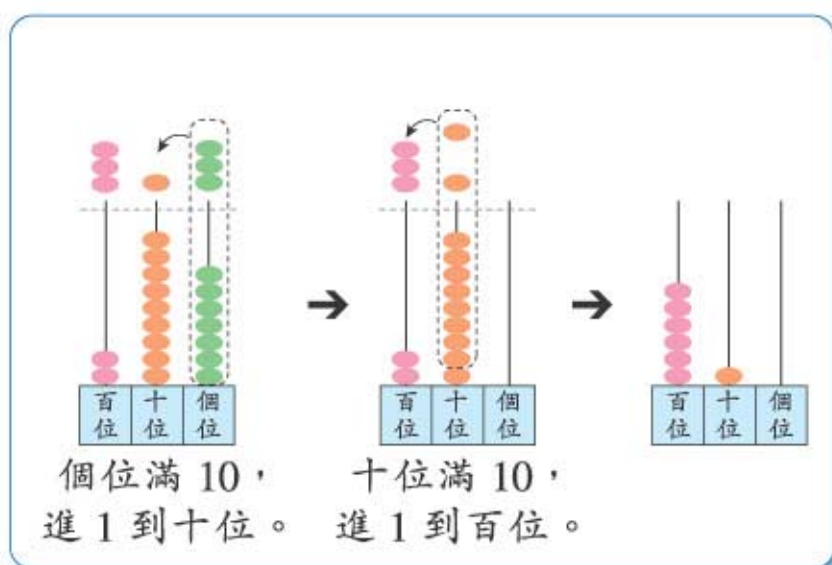
$$183 + 278 = 461 \text{ (個)}$$



$$\begin{array}{r} \text{百} \text{十} \text{個} \\ 1 \ 8 \ 3 \\ + 2 \ 7 \ 8 \\ \hline 4 \ 6 \ 1 \end{array}$$

兩次進位

- 2 $297 + 313 = \square$



297 約是 300，

313 約是 _____，

$300 + \square = \square$ ，

答案約是 _____。

$$\begin{array}{r} \text{百} \text{十} \text{個} \\ 2 \ 9 \ 7 \\ + 3 \ 1 \ 3 \\ \hline \square \end{array}$$

兩次進位

3 $214 + 376 + 250 = \square$

$$\begin{array}{r} 214 \\ 376 \\ + 250 \\ \hline \square \end{array}$$

4 $199 + 298 + 399 = \square$

$$\begin{array}{r} 199 \\ 298 \\ + 399 \\ \hline \square \end{array}$$

注意進 2

199 約是 _____,

298 約是 _____,

399 約是 _____,

$\square + \square + \square = \square$,

答案約是 _____。



來算算

1 $\begin{array}{r} 89 \\ + 175 \\ \hline \square \end{array}$

2 $\begin{array}{r} 283 \\ + 168 \\ \hline \square \end{array}$

3 $183 + 294 + 365 = \square$

4 $329 + 486 + 107 = \square$

做一做

二人一組，各人在附頁工作紙(一)上隨意選擇貼紙的數目，計算二人共有貼紙多少個，並把結果記錄下來。



我有貼紙……個。

我有貼紙……個。



我們共有貼紙……個。



二 圖書角

- 1 圖書角□有中文故事書 196 本和英文故事書 207 本，共有故事書多少本？

共有故事書：

$$\begin{array}{r}
 196 + 207 \\
 = \square \text{ (本)}
 \end{array}
 \qquad
 \begin{array}{r}
 196 \\
 + 207 \\
 \hline
 \square
 \end{array}$$



- 2 甲班的圖書角有圖書 107 本，乙班有 193 本，丙班有 268 本，三班共有圖書多少本？

三班共有圖書：

$$\begin{array}{r}
 \square + \square + \square \\
 = \square \text{ (本)}
 \end{array}$$

$$\begin{array}{r}
 \square \\
 \square \\
 + \square \\
 \hline
 \square
 \end{array}$$

- * 3 有小說 217 本，小說比漫畫少 198 本，有漫畫多少本？

即漫畫的數量較多。



- * 4 有畫冊 117 本，童話集比畫冊多 194 本，共有畫冊和童話集多少本？





練習五

算算看。

$$\begin{array}{r} \textcircled{1} \quad 455 \\ + \quad 89 \\ \hline \square \end{array}$$

$$\begin{array}{r} \textcircled{2} \quad 344 \\ + \quad 386 \\ \hline \square \end{array}$$

$$\begin{array}{r} \textcircled{3} \quad 266 \\ \quad 387 \\ + \quad 108 \\ \hline \square \end{array}$$

$$\begin{array}{r} \textcircled{4} \quad 359 \\ \quad 264 \\ + \quad 128 \\ \hline \square \end{array}$$

$$\textcircled{5} \quad 326 + 187 = \square$$

$$\textcircled{6} \quad 267 + 359 = \square$$

$$\textcircled{7} \quad 196 + 75 + 333 = \square$$

$$\textcircled{8} \quad 207 + 199 + 288 = \square$$

列式計算下列各題。

- ⑨ 樂樂上星期看了一本故事書的 158 頁，本星期看了 172 頁，他共看了故事書多少頁？

他共看了故事書：

$$\square + \square = \square \text{ (頁)}$$

$$\begin{array}{r} \square \\ + \square \\ \hline \square \end{array}$$

- ⑩ 黃色絲帶長 286 厘米，綠色絲帶長 135 厘米，紅色絲帶長 176 厘米，這三段絲帶共長多少厘米？

這三段絲帶共長：

- * ⑪ 零食店有朱古力糖 283 粒，朱古力糖比果汁糖少 97 粒，果汁糖有多少粒？

